



Рис. 151

24. Рисунок 151 служит иллюстрацией к известной басне Крылова. Какая это басня и какая строка ее здесь проиллюстрирована?

25. Рисунок 152 служит иллюстрацией к сказке Милна «Винни-Пух и все, все, все». Что здесь изображено?

26. Ученики одной из московских школ совершили автобусную экскурсию в г. Волоколамск. Вернувшись с экскурсии, один из школьников нарисовал картинку (рис. 153). Куда на этой картинке едет автобус — в Москву или Волоколамск?

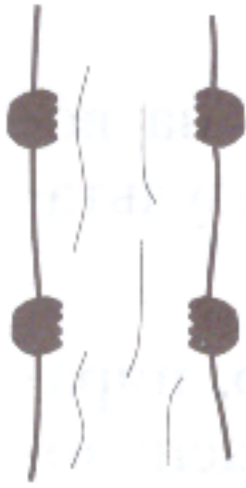


Рис. 152

27. На рисунке 154 изображены некоторые геометрические тела. Возможно, точка зрения не очень привычна. Какие тела, если на них посмотреть с соответствующей стороны, могут выглядеть, как на рисунке? Какие из рисунков могут соответствовать одному и тому же телу?

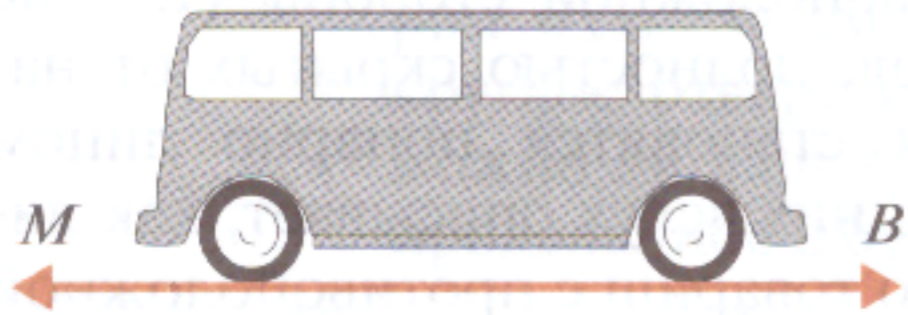


Рис. 153

28. На квадратном участке расположены три дома (рис. 155), а в ограде сделаны три калитки. От каждой калитки проложена дорожка к домику с тем же номером, причем эти дорожки не пересекаются. Как проходят дорожки?

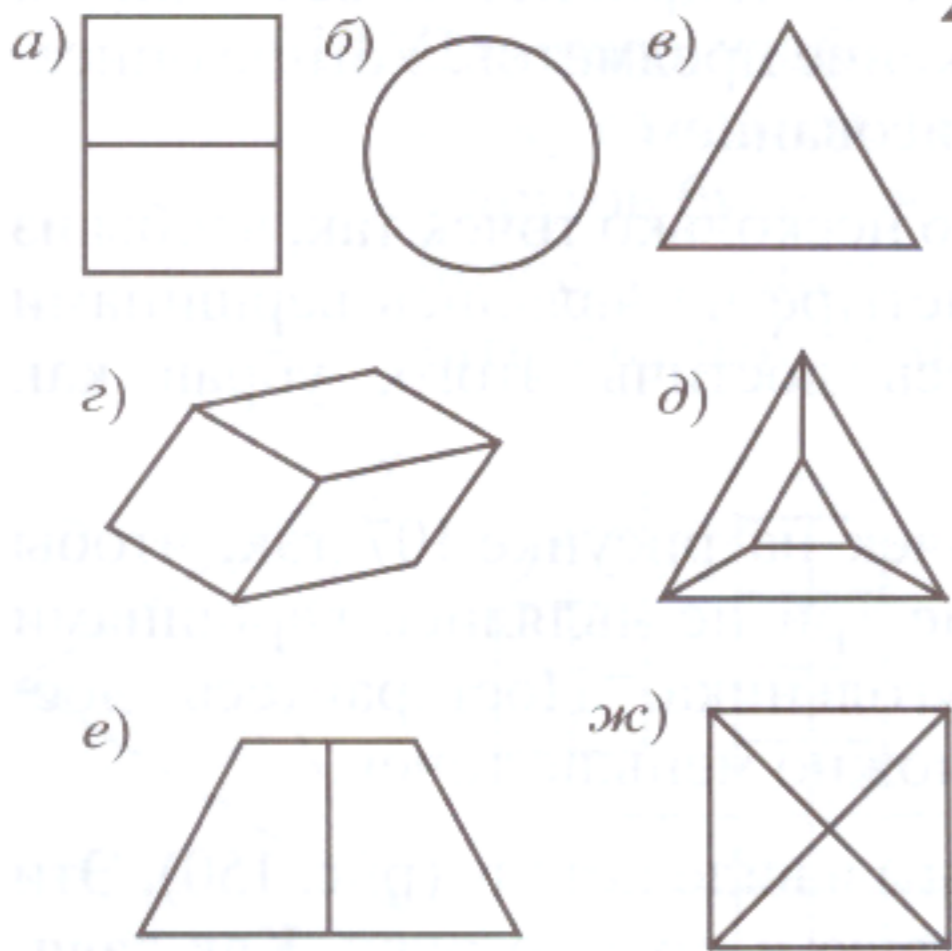


Рис. 154

29. ИГРА СО СПИЧКАМИ. На стол, вокруг которого сидят участники, кладут по одной коробке спичек на каждого участника.

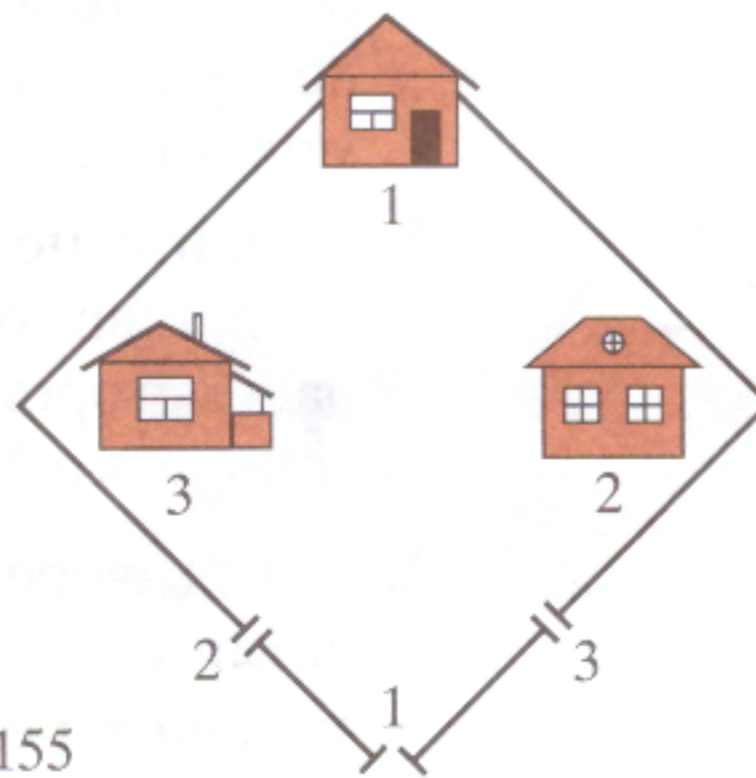


Рис. 155

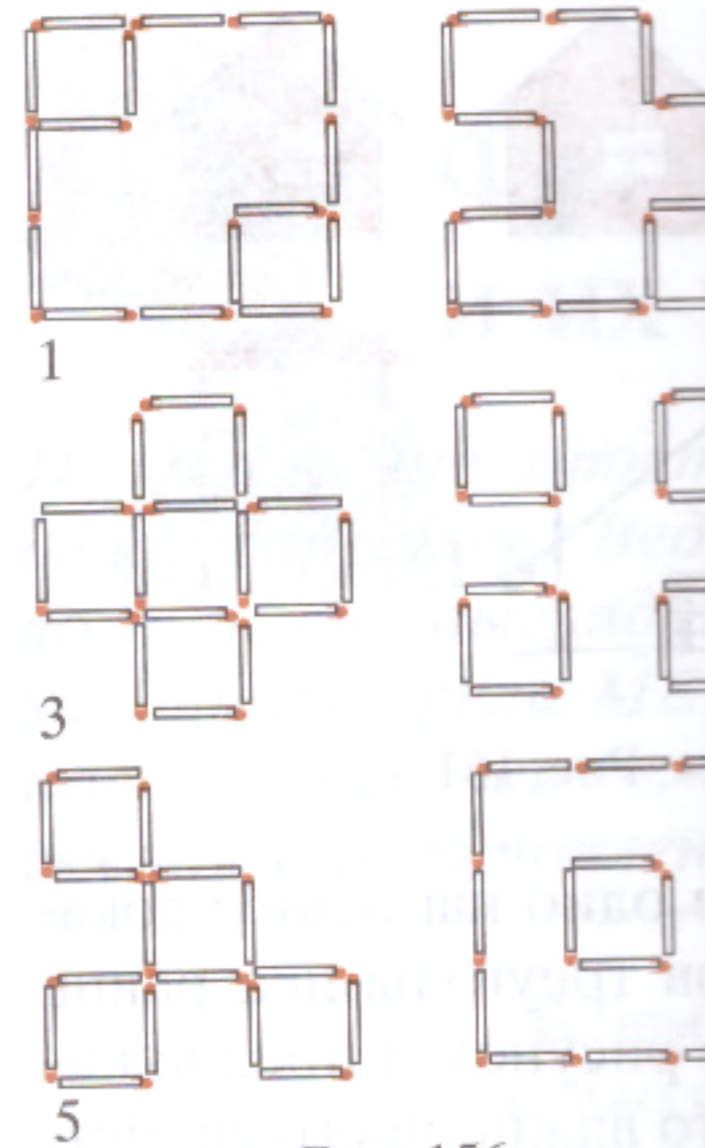


Рис. 156

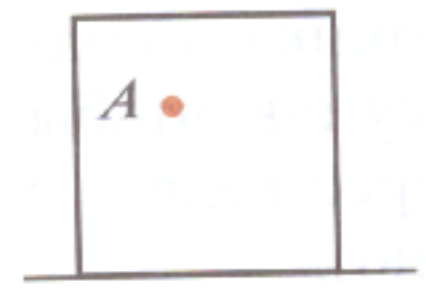


Рис. 158

На серед... (рис. 156) из нари... спичку... ки, обра... лась вто... Выиг... быстрее

30. На рису... дите сто... проса, ... равна 1.

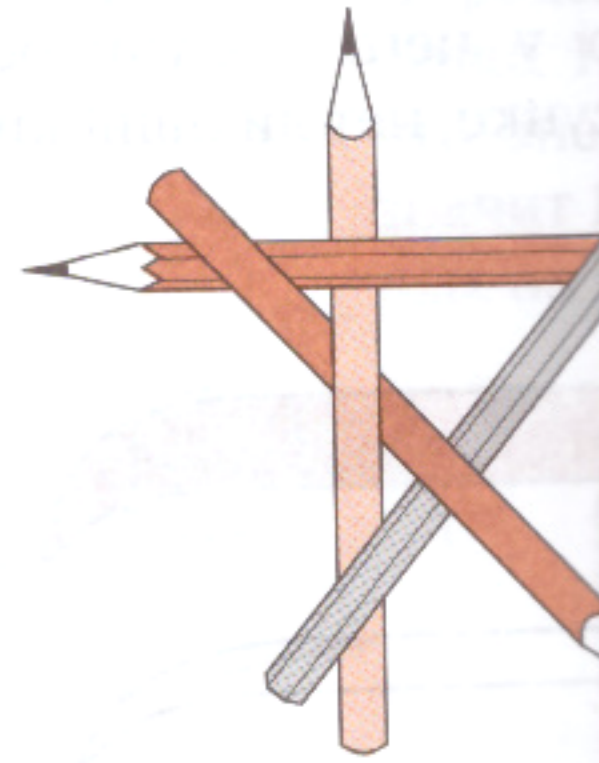


Рис. 159